

Problema 1

$$W(s) = K \frac{4(s+10)}{s(s^2+4s+4)}$$

Per $K=1$ ho $\tilde{W}(s) = \frac{4(s+10)}{s(s^2+4s+4)}$ di cui traccia il diagramma di Bode

$$\tilde{W}(s) = \frac{40 \left(1 + \frac{s}{10}\right)}{s \left(1 + s + \frac{s^2}{4}\right)} = 10 \frac{\left(1 + \frac{s}{10}\right)}{s \left(1 + s + \frac{s^2}{4}\right)}$$

Termine "quadrato": $K_{\tilde{W}} = 10$

$$\hookrightarrow (K_{\tilde{W}})_{dB} = 20 \log_{10} 10 = 20 \text{ dB} \quad (\text{livello globale del diagramma dei moduli})$$

$K_{\tilde{W}} > 0 \Rightarrow$ non si spostano davanti al gradiente

Termine binomio al numeratore: $(s+10) = 10 \left(1 + \frac{s}{10}\right) \Leftrightarrow \omega_t = 10 \text{ rad/s}$

MODULI: pendenza di $+20 \text{ dB/dec}$ in $[10, +\infty)$

FASI: pendenza di $+\pi/4 \text{ rad/dec}$ in $[1, 100]$

Termine monomio al denominatore: $s = j\omega$

MODULI: pendenza di -20 dB/dec in $[0, +\infty)$

FASI: spostamento globale di $-\pi/2$

Termine trinomio al denominatore: $s^2+4s+4 = 4 \left(1 + \frac{4s}{4} + \frac{s^2}{4}\right) \begin{cases} \omega_n = 2 \text{ rad/s} \\ \zeta = 1 \end{cases}$

MODULI: pendenza di -40 dB/dec in $[2, +\infty)$

FASI: pendenza di $-\pi/2 \text{ rad/dec}$ in $[0.2, 20]$

NOTA: lo smorzamento $\zeta=1$ significa che il termine trinomio equivale a un binomio doppio: dunque nel diagramma delle fasi l'approssimazione su due decade è ottima.

MODULI

$\omega < 2 \text{ rad/s}$	-20 dB/dec
$2 < \omega < 10 \text{ rad/s}$	-60 dB/dec
$100 < \omega$	-40 dB/dec

FASI

$\omega < 0.2 \text{ rad/s}$	0 rad/dec
$0.2 < \omega < 0.4 \text{ rad/s}$	$-\pi/2 \text{ rad/dec}$
$1 < \omega < 20 \text{ rad/s}$	$-\pi/4 \text{ rad/dec}$
$20 < \omega < 100 \text{ rad/s}$	$+\pi/4 \text{ rad/dec}$
$100 < \omega$	0 rad/dec

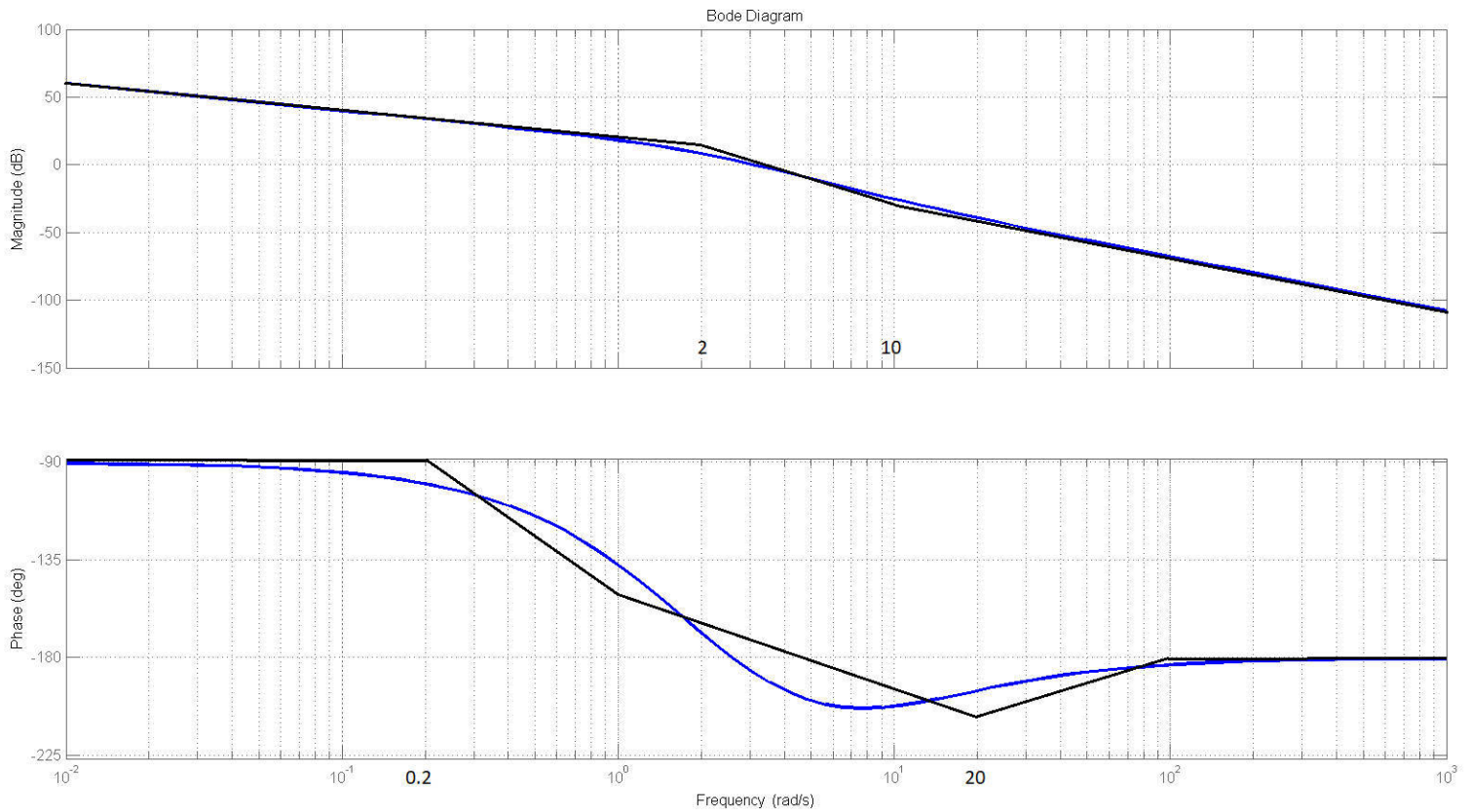
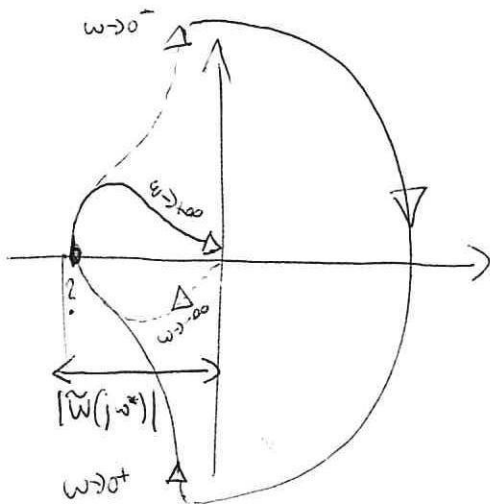


Diagramma polare per $K=1$ (di $W(s)$)



Pulsazione di attraversamento: ω^* ; $\text{Im} \{ \tilde{W}(j\omega) \} = 0$

$$\text{Im} \{ \tilde{W}(j\omega) \} = \text{Im} \left\{ \frac{j\omega + 10}{j\omega(-\omega^2 + 4j\omega + 4)} \right\} = 0 \quad (\text{cioè}) \quad \text{Im} \left\{ \frac{(j\omega + 10)}{-j\omega^3 - 4\omega^2 + 4j\omega} \right\} = 0$$

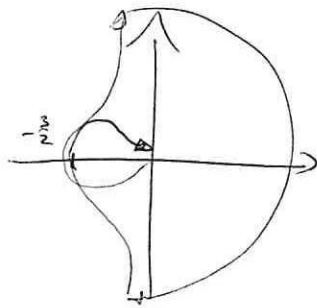
$$\text{cioè} \quad \text{Im} \left\{ \frac{(j\omega + 10)(-4\omega^2 + j(4\omega - \omega^3))}{(-4\omega^2 + j(4\omega - \omega^3))(-4\omega^2 - j(4\omega - \omega^3))} \right\} = 0$$

$$\text{cioè} \quad \text{Im} \{ (j\omega + 10)(-4\omega^2 - j(4\omega - \omega^3)) \} = 0$$

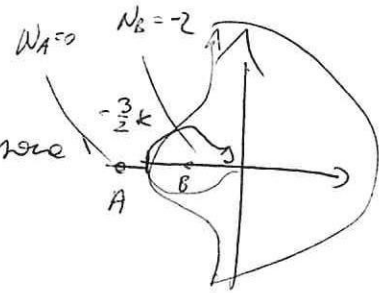
$$\text{cioè} \quad -4\omega^3 + 10\omega^3 - 40\omega = 6\omega^3 - 40\omega = 2\omega(3\omega^2 - 20) = 0 \quad \begin{matrix} \omega = 0 \\ \omega = \pm \sqrt{\frac{20}{3}} \end{matrix}$$

$$|W(j\omega^*)| = |W(j\sqrt{\frac{20}{3}})| = \left| \frac{4(j\sqrt{\frac{20}{3}} + 10)}{j\sqrt{\frac{20}{3}}(-\frac{20}{3} + 4j\sqrt{\frac{20}{3}} + 4)} \right| = \frac{4\sqrt{\frac{20}{3} + 100}}{\sqrt{\frac{20}{3}} \sqrt{(-\frac{20}{3} + 4)^2 + 16\frac{20}{3}}} = \frac{3}{2}$$

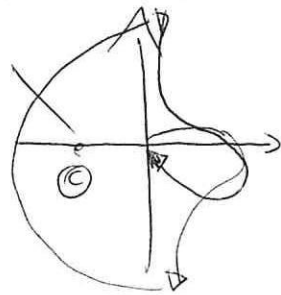
Di più, poiché $|\tilde{W}(j\omega^*)| = \frac{3}{2}$, si ha che il diagramma polare di $W(s)$ per $k=1$ illustra l'omne reale in $-\frac{3}{2}$:



Di più, al variare di $k > 0$, il diagramma di $W(s)$ varia



o per $k < 0$ verso



In quanto riguarda il criterio di Nyquist per la stabilità di $W_{CH}(s) = \frac{W(s)}{1+W(s)}$ si ha che per $k > 0$ sono possibili (per il punto critico $-1+j0$) le posizioni

A) quando $-\frac{3}{2}k > -1$, ovvero quando $k < \frac{2}{3}$ (e $k > 0$).

in tal caso $P_{CH} = P_{AP} - \hat{N}_A = 0 - 0 = 0$: $W_{CH}(s)$ è stabile!

B) quando $-\frac{3}{2}k < -1$, ovvero quando $k > \frac{2}{3}$

e in tal caso $P_{CH} = P_{AP} - \hat{N}_B = 0 - (-2) = 2$: $W_{CH}(s)$ è instabile!

Per $k < 0$ si ha sempre il caso C), in cui $P_{CH} = P_{AP} - \hat{N}_C = 0 - (-1) = 1$
 Lo $\forall k < 0$ $W_{CH}(s)$ è instabile

CRITERIO DI ROUTH : denominatore di $W_{CH}(s)$: $D_{CH}(s) = \tilde{D}(s) + k\tilde{N}(s)$

$\Rightarrow D_{CH}(s) = s(s^2+4s+4) + k4(s+1) = s^3+4s^2+4s+4ks+40k = s^3+4s^2+4(k+1)s+40k$

3	1	4(k+1)	1	4(k+1)	1,4
2	4	40k	4	40k	-6k+4
1	*		-6k+4		40k
0			40k		

+	+	-
+	+	2/3 -
-	0	+
1V	0V	2V

* = $\frac{40k - 16(k+1)}{-4} = -10k + 4(k+1) = -6k + 4$

se $k \in (0, \frac{2}{3})$ $W_{CH}(s)$ è STABILE (Poi(s) ha solo radici Re(s) < 0)
 altrimenti è instabile! CONFERMAZO NYQUIST

PROBLEMA 2

$$\begin{cases} \dot{x}(t) = Ax(t) + Bu(t) \\ y(t) = Cx(t) \end{cases}$$

$$A = \begin{bmatrix} 3 & -4 \\ 2 & -3 \end{bmatrix} \quad B = \begin{bmatrix} 1 \\ 0 \end{bmatrix} \quad C = \begin{bmatrix} 0 & 1 \end{bmatrix}$$

Modo naturali:

$$p(\lambda) = \det(\lambda I - A) = \begin{vmatrix} \lambda - 3 & 4 \\ -2 & \lambda + 3 \end{vmatrix} = (\lambda - 3)(\lambda + 3) + 8 = 0 \Leftrightarrow \lambda^2 - 9 + 8 = 0$$

$$\Leftrightarrow \lambda^2 = 1 \quad \neq 0 \quad \begin{cases} \lambda_1 = 1 \\ \lambda_2 = -1 \end{cases}$$

Il modo naturale associato a $\lambda_1 = 1$ è INSTABILE ($\text{Re}(\lambda_1) = 1 > 0$)
 Il modo associato a $\lambda_2 = -1$ è ASINT. STABILE ($\text{Re}(\lambda_2) = -1 < 0$).

Autovettori:

$$u_1: (\lambda_1 I - A)u_1 = 0 \Leftrightarrow \begin{bmatrix} -2 & 4 \\ -2 & 4 \end{bmatrix} \begin{bmatrix} x \\ y \end{bmatrix} = \begin{bmatrix} 0 \\ 0 \end{bmatrix} \Leftrightarrow \cancel{2}x = \cancel{2}y \text{ e per } y=1 \quad u_1 = \begin{bmatrix} 2 \\ 1 \end{bmatrix}$$

$$u_2: (\lambda_2 I - A)u_2 = 0 \Leftrightarrow \begin{bmatrix} -4 & 4 \\ -2 & 2 \end{bmatrix} \begin{bmatrix} x \\ y \end{bmatrix} = \begin{bmatrix} 0 \\ 0 \end{bmatrix} \Leftrightarrow x = y \text{ e per } y=1 \quad u_2 = \begin{bmatrix} 1 \\ 1 \end{bmatrix}$$

$$\Rightarrow U = [u_1 \ u_2] = \begin{bmatrix} 2 & 1 \\ 1 & 1 \end{bmatrix} \quad \neq 0 \quad V = U^{-1} = \frac{1}{2-1} \begin{bmatrix} 1 & -1 \\ -1 & 2 \end{bmatrix}^T = \begin{bmatrix} 1 & -1 \\ -1 & 2 \end{bmatrix} \rightarrow \begin{matrix} v_1^T \\ v_2^T \end{matrix}$$

Controllabilità e osservabilità:

$$v_1^T B = [1 \ -1] \begin{bmatrix} 1 \\ 0 \end{bmatrix} = +1 \neq 0 \quad , \quad v_2^T B = [-1 \ 2] \begin{bmatrix} 1 \\ 0 \end{bmatrix} = -1 \neq 0$$

Entrambi i modi sono controllabili per mezzo di impulsi

$$C \cdot u_1 = [0 \ 1] \begin{bmatrix} 2 \\ 1 \end{bmatrix} = 1 \neq 0 \quad , \quad C \cdot u_2 = [0 \ 1] \begin{bmatrix} 1 \\ 1 \end{bmatrix} = 1 \neq 0$$

Entrambi i modi sono osservabili in uscita

Calcolo di $\Phi(t) = e^{At}$

$$\Phi(t) = e^{At} = R \Lambda L = \frac{1}{1-2} e^{\lambda_1 t} u_1 v_1^T + e^{\lambda_2 t} u_2 v_2^T = e^t \begin{pmatrix} 2 \\ 1 \end{pmatrix} (1 \ -1) + e^{-t} \begin{pmatrix} 1 \\ 1 \end{pmatrix} (-1 \ 2) = e^t \begin{bmatrix} 2-2 \\ 1-1 \end{bmatrix} + e^{-t} \begin{bmatrix} -1 \\ -1 \end{bmatrix}$$

$$= \begin{bmatrix} 2e^t - e^{-t} & -2e^t + 2e^{-t} \\ e^t - e^{-t} & -e^t + 2e^{-t} \end{bmatrix} \quad (\text{Verificare che } e^{A0} = I)$$

Calcolo di $w(t) = C e^{At} B = [0 \ 1] \begin{bmatrix} 2e^t - e^{-t} & -2e^t + 2e^{-t} \\ e^t - e^{-t} & -e^t + 2e^{-t} \end{bmatrix} \begin{bmatrix} 1 \\ 0 \end{bmatrix} = [e^t - e^{-t} \quad -e^t + 2e^{-t}] \begin{bmatrix} 1 \\ 0 \end{bmatrix}$

$$\Rightarrow w(t) = e^t - e^{-t}$$

Funzione di trasferimento: $W(s) = \mathcal{L}\{w(t)\} = \frac{1}{s-1} - \frac{1}{s+1} = \frac{s+1-s+1}{(s-1)(s+1)} = \frac{2}{s^2-1}$

Risposta forata all'ingresso $u(t) = 5 \cos(2t)$

$$Y(s) = \mathcal{L}\{u(t)\} = \frac{5s}{s^2+4} \quad \Rightarrow \quad Y_{for}(s) = W(s)U(s) = \frac{2}{(s^2-1)} \cdot \frac{5s}{(s^2+4)} = \frac{10s}{(s^2-1)(s^2+4)}$$

$$\left(= \frac{10s}{(s-1)(s+1)(s-2j)(s+2j)} \right)$$

$$Y_{for}(s) = \frac{R_1}{s-1} + \frac{R_2}{s+1} + \frac{R_3}{s-2j} + \frac{R_4}{s+2j} \quad \text{con } R_4 = R_3^*$$

$$R_1 = \lim_{s \rightarrow 1} Y_{for}(s) \cdot (s-1) = \lim_{s \rightarrow 1} \frac{10s}{(s+1)(s^2+4)} = \frac{10}{2(5)} = 1$$

$$R_2 = \lim_{s \rightarrow -1} Y_{for}(s) \cdot (s+1) = \lim_{s \rightarrow -1} \frac{10s}{(s-1)(s^2+4)} = \frac{-10}{-2(5)} = 1$$

$$R_3 = \lim_{s \rightarrow 2j} Y_{for}(s) \cdot (s-2j) = \lim_{s \rightarrow 2j} \frac{10s}{(s^2-1)(s+2j)} = \frac{20j}{-5(4j)} = \frac{5}{-5} = -1 \quad \Rightarrow \quad R_4 = R_3^* = -1$$

Insomma $Y_{for}(s) = \frac{1}{s-1} + \frac{1}{s+1} - \frac{1}{s-2j} - \frac{1}{s+2j}$

$$y_{for}(t) = \mathcal{L}^{-1}\{Y_{for}(s)\} = e^t + e^{-t} - e^{2jt} - e^{-2jt} = e^t + e^{-t} - 2 \left(\frac{1}{2} (e^{2jt} + e^{-2jt}) \right) \cos(2t)$$

$$\Rightarrow \boxed{y_{for}(t) = e^t + e^{-t} - 2 \cos(2t)}$$

PROBLEMA 3

Dato il sistema e tempo di campionamento da $w(t) = \left(\frac{2}{5}\right)^t \quad t=0,1,2,\dots$
 Calcolare $Y_{grad}(t)$ e la risposta omogenea e $u(t) = \cos\left(\frac{\pi}{4}t\right)$

$$w(t) = \left(\frac{2}{5}\right)^t \quad \Rightarrow \quad W(z) = \mathcal{Z}\{w(t)\} = \frac{z}{z - \frac{2}{5}}$$

Risposta al gradino: $Y_{grad}(z) = W(z) \cdot U(z)$ con $U(z) = \frac{z}{z-1}$ ($u(t) = \delta_{-1}(t) = \begin{cases} 1 & t \geq 0 \\ 0 & t < 0 \end{cases}$)

$$Y_{grad}(z) = \frac{z^2}{(z - \frac{2}{5})(z-1)} \quad Y_{grad}(z) = \frac{z}{(z - \frac{2}{5})(z-1)} = \frac{R_1}{z - \frac{2}{5}} + \frac{R_2}{z-1}$$

$$R_1 = \lim_{z \rightarrow \frac{2}{5}} \frac{z}{z-1} = \frac{\frac{2}{5}}{-\frac{3}{5}} = -\frac{2}{3}$$

$$R_2 = \lim_{z \rightarrow 1} \frac{z}{z - \frac{2}{5}} = \frac{1}{\frac{3}{5}} = \frac{5}{3}$$

NOTA: $R_1 + R_2 = D = w(0) = 1 \quad \checkmark$

$$\text{Insomma } Y_{grad}(z) = R_1 \frac{z}{z - \frac{2}{5}} + R_2 \frac{z}{z-1} = -\frac{2}{3} \left(\frac{z}{z - \frac{2}{5}} \right) + \frac{5}{3} \left(\frac{z}{z-1} \right) \quad \Rightarrow \quad \boxed{y_{grad}(t) = -\frac{2}{3} \left(\frac{2}{5}\right)^t + \frac{5}{3} \delta_{-1}(t)}$$

Risposta omogenea e $u(t) = \cos\left(\frac{\pi}{4}t\right)$ $\left\{ \begin{array}{l} H=1 \\ \varphi=0 \\ \omega = \pi/4 \text{ rad/s} \end{array} \right.$

$$y_{om}(t) = H/W(e^{j\omega})|_{\omega=\pi/4} \cdot \cos(\omega t + \angle W(e^{j\omega})|_{\omega=\pi/4} + \varphi) \quad \text{con } \varphi=0, H=1$$

$$|W(e^{j\omega})|_{\omega=\pi/4} = |W(e^{j\pi/4})| = \left| \frac{z}{z - \frac{2}{5}} \right|_{z=e^{j\pi/4}} = \left| \frac{e^{j\pi/4}}{e^{j\pi/4} - \frac{2}{5}} \right| = \frac{1}{\sqrt{\left(\frac{\sqrt{2}}{2} - \frac{2}{5}\right)^2 + \left(\frac{\sqrt{2}}{2}\right)^2}}$$

ricordando che $e^{j\pi/4} = \cos(\pi/4) + j\sin(\pi/4) = \frac{\sqrt{2}}{2} + j\frac{\sqrt{2}}{2}$

$$\text{ho } |W(e^{j\pi/4})| = \frac{1}{\sqrt{\left(\frac{\sqrt{2}}{2} - \frac{2}{5}\right)^2 + \frac{1}{2}}} \cong 1.3$$

$$\begin{aligned} \angle W(e^{j\omega})|_{\omega=\pi/4} &= \angle \frac{e^{j\pi/4}}{e^{j\pi/4} - \frac{2}{5}} = \angle e^{j\pi/4} - \angle \frac{\sqrt{2} + j\sqrt{2}}{\sqrt{2} - \frac{2}{5}} \\ &= \frac{\pi}{4} - \arctan\left(\frac{\frac{\sqrt{2}}{2}}{\frac{\sqrt{2}}{2} - \frac{2}{5}}\right) \cong -0.37 \end{aligned}$$

$$\Rightarrow \underline{y_{form}(t) = 1.3 \cos\left(\frac{\pi}{4}t - 0.37\right)}$$

PROBLEMA 4

Systeme a tempo discreto: $A = \begin{bmatrix} 2 & 0 & 0 & 0 \\ -1 & 0 & 0 & 0 \\ 0 & -1 & 1 & 0 \\ 0 & 1 & 0 & 0 \end{bmatrix}$ $B = \begin{bmatrix} 0 \\ 1 \\ 0 \\ 1 \end{bmatrix}$ $C = [1 \ 0 \ 0 \ -1]$

Calcolo delle matrici di raggiungibilita' e del sottospazio da esse generato

$$R = [B \ AB \ A^2B \ A^3B] = \begin{bmatrix} 0 & 0 & 0 & 0 \\ 1 & 0 & 0 & 0 \\ 0 & -1 & -1 & -1 \\ 1 & 1 & 0 & 0 \end{bmatrix} \text{ ha rango } 3 \neq 0 \text{ (R sottospazio degli stati raggiungibili) ha dimensione } 3$$

$$\mathcal{R} = \mathcal{L}m(R) = \text{span} \left\{ \begin{pmatrix} 0 \\ 1 \\ 0 \\ 1 \end{pmatrix}, \begin{pmatrix} 0 \\ 0 \\ -1 \\ 1 \end{pmatrix}, \begin{pmatrix} 0 \\ 0 \\ -1 \\ 0 \end{pmatrix} \right\} = \text{span} \left\{ \begin{pmatrix} 0 \\ 1 \\ 0 \\ 1 \end{pmatrix}, \begin{pmatrix} 0 \\ 0 \\ 1 \\ 1 \end{pmatrix}, \begin{pmatrix} 0 \\ 0 \\ 1 \\ 0 \end{pmatrix} \right\} = \text{span} \left\{ \begin{pmatrix} 0 \\ 1 \\ 0 \\ 0 \end{pmatrix}, \begin{pmatrix} 0 \\ 0 \\ 1 \\ 0 \end{pmatrix}, \begin{pmatrix} 0 \\ 0 \\ 0 \\ -1 \end{pmatrix} \right\}$$

$v_2 \leftarrow v_2 - v_3, v_3 \leftarrow -v_3$ $v_1 \leftarrow v_1 - v_2$

Matrice di osservabilita':

$$Q = \begin{bmatrix} C \\ CA \\ CA^2 \\ CA^3 \end{bmatrix} = \begin{bmatrix} 1 & 0 & 0 & -1 \\ 2 & -1 & 0 & 0 \\ 5 & 0 & 0 & 0 \\ 10 & 0 & 0 & 0 \end{bmatrix} \text{ ha rango } 3 \neq 0 \text{ (W(Q) ha dimensione } 1$$

quell'unico vettore del tipo $v = \begin{pmatrix} 0 \\ 0 \\ \alpha \\ 0 \end{pmatrix}$, $\alpha \in \mathbb{R}$ e' t.c. $Q \cdot v = 0 \neq 0$ $W(Q) = \mathcal{L} = \text{span} \left\{ \begin{pmatrix} 0 \\ 0 \\ 1 \\ 0 \end{pmatrix} \right\}$

4 sottospazi della decomposizione di Kalman:

- $\mathcal{X}_1 = \mathcal{R} \cap \mathcal{L} = \mathcal{L}$ (raggiungibile e osservabile)
 - $\mathcal{X}_2 : \mathcal{X}_1 \oplus \mathcal{X}_2 = \mathcal{R} \neq 0$ $\mathcal{X}_2 = \text{span} \left\{ \begin{pmatrix} 0 \\ 1 \\ 0 \\ 0 \end{pmatrix}, \begin{pmatrix} 0 \\ 0 \\ 1 \\ 0 \end{pmatrix} \right\}$ (raggiungibile e non osservabile)
 - $\mathcal{X}_3 : \mathcal{X}_1 \oplus \mathcal{X}_3 = \mathcal{L} \neq 0$ $\mathcal{X}_3 = \{0\}$ (non raggi. e non osservabile)
 - $\mathcal{X}_4 : \mathcal{X}_1 \oplus \mathcal{X}_2 \oplus \mathcal{X}_3 \oplus \mathcal{X}_4 = \mathbb{R}^4 \neq 0$ $\mathcal{X}_4 = \text{span} \left\{ \begin{pmatrix} 1 \\ 0 \\ 0 \\ 0 \end{pmatrix} \right\}$ (non raggi. e non osservabile, salto piu' semplice)
- Lo stato $x_4 = \begin{pmatrix} 1 \\ 0 \\ 0 \\ 0 \end{pmatrix}$ e' non raggiungibile e non osservabile, lo stato $x_1 = \begin{pmatrix} 0 \\ 0 \\ 1 \\ 0 \end{pmatrix}$ e' raggiungibile e osservabile.

PROBLEMA 5

dato il sistema :

$$\begin{cases} \dot{x}_1 = (1-k)x_1 + kx_1x_2 \\ \dot{x}_2 = -x_1^2 - k^2x_2 \end{cases}$$

si studia la stabilità di $x = (0,0)$ al variare di $k \in (-\infty, +\infty)$

iniziamo con il metodo diretto (o della linearizzazione) :

$$J(x) = \begin{bmatrix} \frac{\partial f_1}{\partial x_1} & \frac{\partial f_1}{\partial x_2} \\ \frac{\partial f_2}{\partial x_1} & \frac{\partial f_2}{\partial x_2} \end{bmatrix}_{x_0} = \begin{bmatrix} 1-k & kx_2 \\ -2x_1 & -k^2 \end{bmatrix}_{(0,0)} = \begin{bmatrix} 1-k & 0 \\ 0 & -k^2 \end{bmatrix}$$

Lo jacobiano in x_0 ha autovalori $\begin{cases} \lambda_1 = 1-k \\ \lambda_2 = -k^2 \end{cases}$

osservando, se $\boxed{k < 1}$ $\begin{cases} \lambda_1 > 0 \\ \lambda_2 \leq 0 \end{cases} \Rightarrow x_0$ è instabile $\forall k < 1$

se invece $\boxed{k > 1}$ $\begin{cases} \lambda_1 < 0 \\ \lambda_2 < 0 \end{cases} \Rightarrow x_0$ è localmente asintoticamente stabile

se $\boxed{k = 1}$ $\begin{cases} \lambda_1 = 0 \\ \lambda_2 < 0 \end{cases}$ caso critico

NOTA: il caso $k=0$ ($\lambda_2 = 0$) non è un caso critico perché per $k=0$ $\lambda_1 > 0$ e dunque x_0 è instabile per tale scelta di k

ricominciamo dal caso critico :

$k=1$ nelle equazioni del sistema

$$\begin{cases} \dot{x}_1 = x_1x_2 \\ \dot{x}_2 = -x_1^2 - x_2 \end{cases}$$

$$V(x) = \frac{\alpha}{2}x_1^2 + \frac{1}{2}x_2^2 > 0 \quad (\alpha > 0)$$

$$\dot{V}(x) = \frac{\partial V}{\partial x} \dot{x}(t) = \begin{bmatrix} \alpha x_1 & x_2 \end{bmatrix} \begin{bmatrix} x_1x_2 \\ -x_1^2 - x_2 \end{bmatrix} = \alpha x_1^2x_2 - x_1^2x_2 - x_2^2$$

per $\alpha = 1 \Rightarrow \dot{V}(x) = -x_2^2 \leq 0$ (in entrambi i fatti gli ultimi punti $(x_1, x_2) = (\alpha, 0)$ $\alpha > 0$)

Ricorrendo :

- $k > 1$ x_0 localmente asintoticamente stabile
- $k = 1$ x_0 semplicemente stabile
- $k < 1$ x_0 instabile.